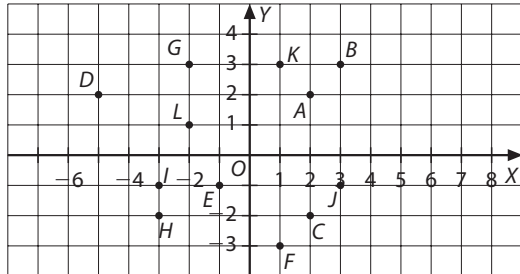


Actividades

- 1** Observa el siguiente gráfico y escribe las coordenadas de los puntos representados:



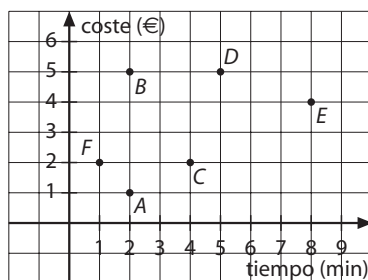
- a) Del primer cuadrante.

- b) Del segundo cuadrante.

- c) Del tercer cuadrante.

- d) Del cuarto cuadrante.

- 2** El gráfico representa el tiempo que duran las llamadas telefónicas de varias personas y lo que pagan por ellas.



Contesta las siguientes preguntas:

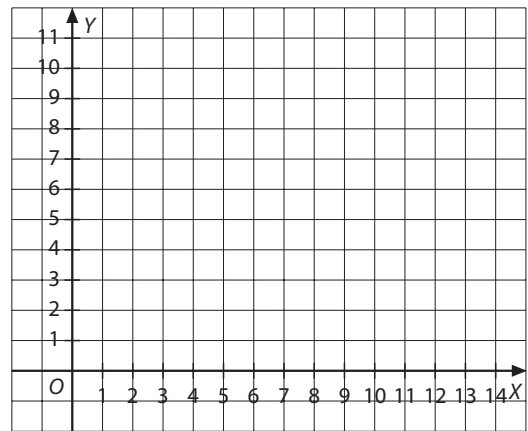
- a) ¿Quién ha efectuado la llamada más larga y cuánto duró?

- b) ¿Quién realizó la más corta?

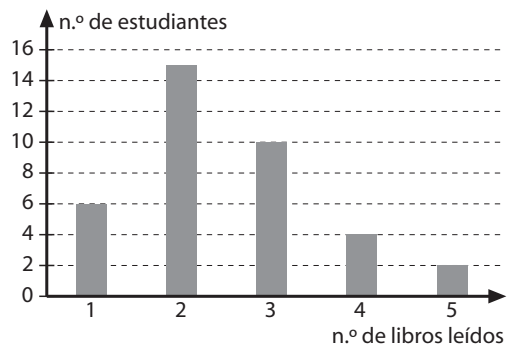
- c) ¿Quién llamó al país más lejano, B o D?

- 3** Representa en unos ejes de coordenadas los puntos de la tabla siguiente y después únelos. ¿Qué representan?

x	0	2	4	6	8
y	0	1	2	3	4



- 4** El siguiente gráfico representa el número de libros leídos por los estudiantes de dos grupos de 1.º de ESO en un mes:



- a) ¿Cuántos estudiantes han leído 2 libros?

- b) ¿Cuántos estudiantes han leído más de 3 libros?

- c) ¿Cuántos estudiantes hay en total?

- d) Halla la frecuencia relativa de los estudiantes que han leído 1 libro.
